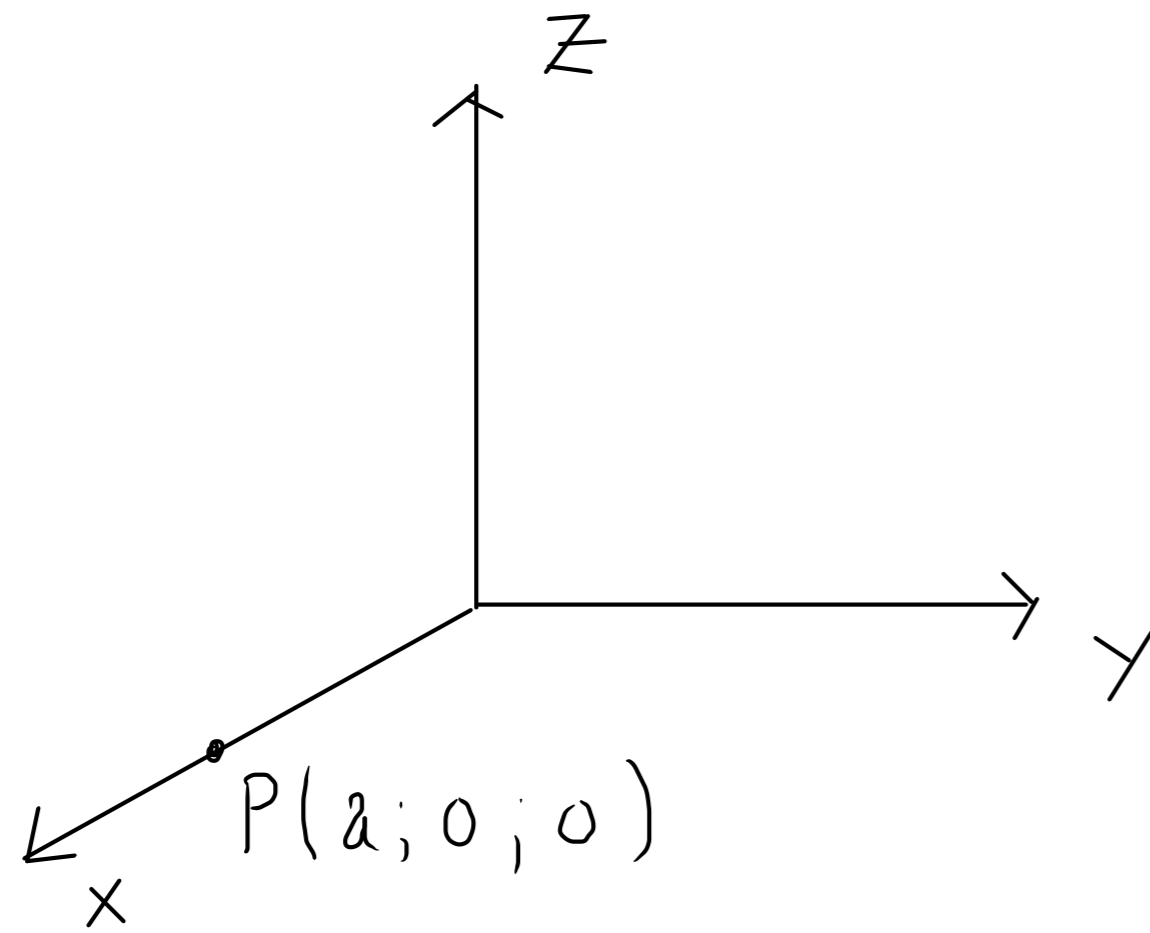


1.4.18 On donne les points $A(-2; 3; -2)$ et $B(-6; -1; 1)$. Calculer le point P qui est situé sur l'axe Ox et tel que le triangle APB soit rectangle en P .



$$\vec{AP} = \begin{pmatrix} a \\ 0 \\ 0 \end{pmatrix} - \begin{pmatrix} -2 \\ 3 \\ -2 \end{pmatrix} = \begin{pmatrix} a+2 \\ -3 \\ 2 \end{pmatrix}$$

$$\vec{BP} = \begin{pmatrix} a \\ 0 \\ 0 \end{pmatrix} - \begin{pmatrix} -6 \\ -1 \\ 1 \end{pmatrix} = \begin{pmatrix} a+6 \\ 1 \\ -1 \end{pmatrix}$$

$$\vec{AP} \cdot \vec{BP} = 0$$

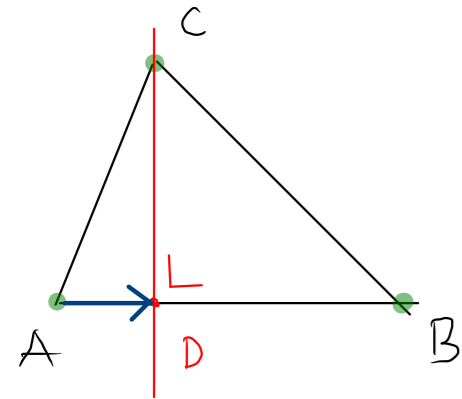
$$\vec{AP} \cdot \vec{BP} = (a+2)(a+6) - 3 - 2 = a^2 + 8a + 7$$

$$a^2 + 8a + 7 = 0$$

$$(a+7)(a+1) = 0$$

$$a = -7 \quad \text{ou} \quad a = -1$$

1.4.20 Soit $A(-7; -3)$, $B(11; 3)$ et $C(1; -4)$. Calculer le point D qui est le pied de la hauteur issue de C dans le triangle ABC .



$$\vec{AD} \perp \vec{CD} \Rightarrow \vec{AD} \cdot \vec{CD} = 0$$

$$\vec{AB} = \begin{pmatrix} 18 \\ 6 \end{pmatrix} \cup \begin{pmatrix} 3 \\ 1 \end{pmatrix}$$

$$1) \vec{AD} \cup \vec{AB} \Rightarrow \vec{AD} = k \begin{pmatrix} 3 \\ 1 \end{pmatrix} = \begin{pmatrix} 3k \\ k \end{pmatrix}$$

$$2) \vec{CD} \perp \vec{AB} \Rightarrow \vec{CD} \cup \begin{pmatrix} -1 \\ 3 \end{pmatrix} \Rightarrow \vec{CD} = \begin{pmatrix} -m \\ 3m \end{pmatrix}$$

$$\vec{OD} = \vec{OA} + \vec{AD} = \begin{pmatrix} -7 \\ -3 \end{pmatrix} + \begin{pmatrix} 3k \\ k \end{pmatrix} = \begin{pmatrix} -7 + 3k \\ -3 + k \end{pmatrix}$$

$$\vec{OD} = \vec{OC} + \vec{CD} = \begin{pmatrix} 1 \\ -4 \end{pmatrix} + \begin{pmatrix} -m \\ 3m \end{pmatrix} = \begin{pmatrix} 1 - m \\ -4 + 3m \end{pmatrix}$$

d'où le système d'équations :

$$\begin{cases} -7 + 3k = 1 - m \\ -3 + k = -4 + 3m \end{cases}$$

Réolvons - le :

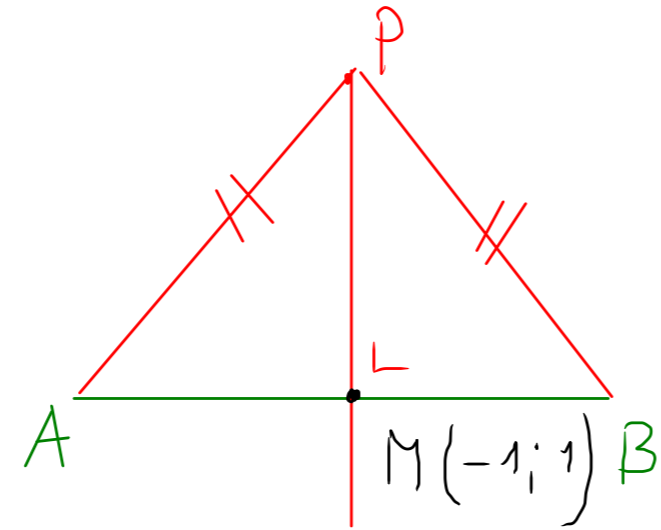
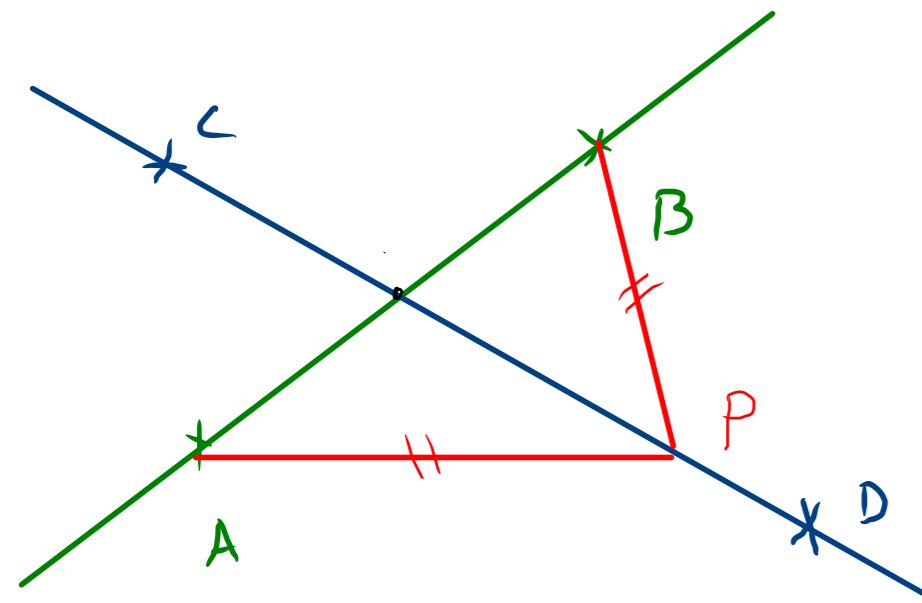
$$\begin{cases} 3k + m = 8 \\ k - 3m = -1 \end{cases} \begin{array}{l} \cdot 1 \\ \cdot (-3) \end{array} \begin{array}{l} \cdot 3 \\ \cdot 1 \end{array}$$

$$\begin{cases} 10m = 11 \\ 10k = 23 \end{cases} \Leftrightarrow \begin{cases} m = 1,1 \\ k = 2,3 \end{cases}$$

$$\vec{OD} = \begin{pmatrix} -7 + 3 \cdot 2,3 \\ -3 + 2,3 \end{pmatrix} = \begin{pmatrix} -0,1 \\ -0,7 \end{pmatrix} \Rightarrow D(-0,1; -0,7)$$

$$\vec{OD} = \begin{pmatrix} 1 - 1,1 \\ -4 + 3 \cdot 1,1 \end{pmatrix} = \begin{pmatrix} -0,1 \\ -0,7 \end{pmatrix}$$

1.4.21 Soit $A(-3; -1)$, $B(1; 3)$, $C(-1; 7)$ et $D(0; 3)$. Déterminer le point P de la droite CD qui est situé à la même distance des points A et B .



$$\vec{MP} \perp \vec{AB}$$

$$\vec{AB} = \begin{pmatrix} 4 \\ 4 \end{pmatrix} \wedge \begin{pmatrix} 1 \\ 1 \end{pmatrix}$$

$$\vec{MP} \perp \vec{AB}$$

$$\vec{MP} = K \begin{pmatrix} 1 \\ -1 \end{pmatrix} = \begin{pmatrix} K \\ -K \end{pmatrix}$$

$$\vec{OP} = \vec{OM} + \vec{MP} = \begin{pmatrix} -1 \\ 1 \end{pmatrix} + \begin{pmatrix} K \\ -K \end{pmatrix} = \begin{pmatrix} K-1 \\ -K+1 \end{pmatrix}$$

$$\vec{OP} = \vec{OC} + m \vec{CD} = \begin{pmatrix} -1 \\ 7 \end{pmatrix} + m \begin{pmatrix} 1 \\ -4 \end{pmatrix} = \begin{pmatrix} m-1 \\ -4m+7 \end{pmatrix}$$

D'où le système d'équations :

$$\begin{cases} K-1 = m-1 \\ -K+1 = -4m+7 \end{cases}$$

$$\Leftrightarrow \begin{cases} K-m = 0 \\ -K+4m = 6 \end{cases} \Leftrightarrow \begin{cases} m = 2 \\ K = 2 \end{cases}$$

$$\vec{OP} = \begin{pmatrix} 1 \\ -1 \end{pmatrix}$$

$$\vec{OP} = \begin{pmatrix} 1 \\ -1 \end{pmatrix}$$

$$\Rightarrow P(1; -1)$$