

Corrigé de l'exercice 1

- 1. Soit FHV un triangle rectangle en V tel que :
 $HV = 4,8$ cm et $HF = 5,2$ cm.
 Calculer la longueur FV .

.....
 Le triangle FHV est rectangle en V .
 Son hypoténuse est $[HF]$.

D'après le **théorème de Pythagore** :

$$HF^2 = FV^2 + HV^2$$

$$FV^2 = HF^2 - HV^2 \quad (\text{On cherche } FV)$$

$$FV^2 = 5,2^2 - 4,8^2$$

$$FV^2 = 27,04 - 23,04$$

$$FV^2 = 4$$

Donc $FV = \sqrt{4} = 2$ cm

- 2. Soit BRD un triangle rectangle en D tel que :
 $RD = 13,2$ cm et $BD = 5,5$ cm.
 Calculer la longueur RB .

.....
 Le triangle BRD est rectangle en D .

Son hypoténuse est $[RB]$.

D'après le **théorème de Pythagore** :

$$RB^2 = BD^2 + RD^2$$

$$RB^2 = 5,5^2 + 13,2^2$$

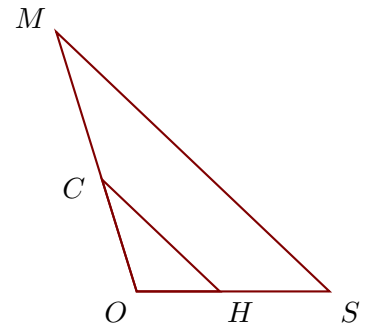
$$RB^2 = 30,25 + 174,24$$

$$RB^2 = 204,49$$

Donc $RB = \sqrt{204,49} = 14,3$ cm

Corrigé de l'exercice 2

Sur la figure ci-contre, les droites (SM) et (HC) sont parallèles.
 On donne $OS = 51$ cm, $OC = 31$ cm, $HC = 43$ cm et $HS = 29$ cm.
 Calculer OM et SM , arrondies au centième



Dans le triangle OSM , H est sur le côté $[OS]$, C est sur le côté $[OM]$ et les droites (SM) et (HC) sont parallèles.

D'après le **théorème de Thalès** :

$$\frac{OS}{OH} = \frac{OM}{OC} = \frac{SM}{HC}$$

De plus $OH = OS - HS = 22$ cm

$$\frac{51}{22} = \frac{OM}{31} = \frac{SM}{43}$$

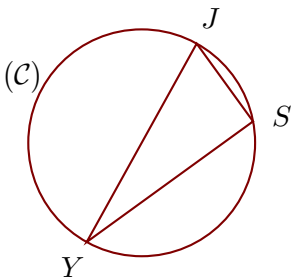
$\frac{51}{22} = \frac{OM}{31}$ donc	$OM = \frac{31 \times 51}{22} \simeq 71,86$ cm
--------------------------------------	--

$\frac{51}{22} = \frac{SM}{43}$ donc	$SM = \frac{43 \times 51}{22} \simeq 99,68$ cm
--------------------------------------	--

Corrigé de l'exercice 3

(C) est un cercle de diamètre [YJ] et S est un point de (C).
 On donne JS = 7,2 cm et YS = 15,4 cm.
 Calculer la longueur YJ.

.....



[YJ] est le diamètre du cercle circonscrit au triangle YSJ.

Donc le triangle YSJ est rectangle en S.

D'après le **théorème de Pythagore** :

$$YJ^2 = JS^2 + YS^2 \quad (\text{car } [YJ] \text{ est l'hypoténuse})$$

$$YJ^2 = 7,2^2 + 15,4^2$$

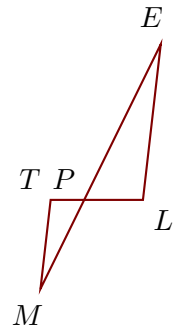
$$YJ^2 = 51,84 + 237,16$$

$$YJ^2 = 289$$

Donc $YJ = \sqrt{289} = 17 \text{ cm}$

Corrigé de l'exercice 4

Sur la figure ci-contre, les droites (LE) et (TM) sont parallèles.
 On donne PL = 2,1 cm PE = 6,2 cm LE = 5,6 cm TM = 3,2 cm.
 Calculer PT et PM, arrondies au dixième.



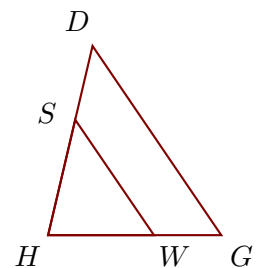
Les points P, T, L et P, M, E sont alignés et les droites (LE) et (TM) sont parallèles.

D'après le **théorème de Thalès** : $\frac{PL}{PT} = \frac{PE}{PM} = \frac{LE}{TM}$ d'où $\frac{2,1}{PT} = \frac{6,2}{PM} = \frac{5,6}{3,2}$

$$\frac{5,6}{3,2} = \frac{2,1}{PT} \quad \text{donc} \quad \boxed{PT = \frac{2,1 \times 3,2}{5,6} = 1,2 \text{ cm}}$$

$$\frac{5,6}{3,2} = \frac{6,2}{PM} \quad \text{donc} \quad \boxed{PM = \frac{6,2 \times 3,2}{5,6} \simeq 3,5 \text{ cm}}$$

Sur la figure ci-contre, les droites (GD) et (WS) sont parallèles.
 On donne HW = 2,5 cm HS = 2,8 cm WS = 3,3 cm WG = 1,6 cm.
 Calculer HD et GD, arrondies au dixième.



Les points H, W, G et H, S, D sont alignés et les droites (GD) et (WS) sont parallèles.

D'après le **théorème de Thalès** : $\frac{HW}{HG} = \frac{HS}{HD} = \frac{WS}{GD}$

De plus $HG = WG + HW = 4,1 \text{ cm}$, d'où $\frac{4,1}{2,5} = \frac{HD}{2,8} = \frac{GD}{3,3}$

$$\frac{4,1}{2,5} = \frac{HD}{2,8} \quad \text{donc} \quad \boxed{HD = \frac{2,8 \times 4,1}{2,5} \simeq 4,6 \text{ cm}}$$

$$\frac{4,1}{2,5} = \frac{GD}{3,3} \quad \text{donc} \quad \boxed{GD = \frac{3,3 \times 4,1}{2,5} \simeq 5,4 \text{ cm}}$$

Corrigé de l'exercice 5

- 1. GHW est un triangle rectangle en W tel que :
 $GH = 8,3$ cm et $\widehat{WGH} = 44^\circ$.
 Calculer la longueur WG , arrondie au dixième.

.....

Dans le triangle GHW rectangle en W ,

$$\cos \widehat{WGH} = \frac{WG}{GH}$$

$$\cos 44 = \frac{WG}{8,3}$$

$$\boxed{WG = \cos 44 \times 8,3 \simeq 6 \text{ cm}}$$

- 2. RMV est un triangle rectangle en M tel que :
 $MV = 9,5$ cm et $MR = 9,8$ cm.
 Calculer la mesure de l'angle \widehat{MRV} , arrondie au centième.

.....

Dans le triangle RMV rectangle en M ,

$$\tan \widehat{MRV} = \frac{MV}{MR}$$

$$\tan \widehat{MRV} = \frac{9,5}{9,8}$$

$$\boxed{\widehat{MRV} = \tan^{-1} \left(\frac{9,5}{9,8} \right) \simeq 44,11^\circ}$$