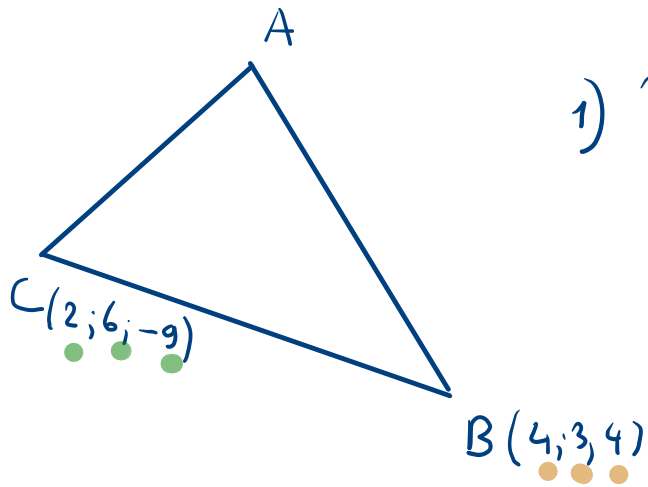


1.4.2 Calculer le périmètre du triangle ABC si $A(2; 1; 3)$, $B(4; 3; 4)$ et $C(2; 6; -9)$.



1) Déterminons : $\|\vec{AB}\|$

$$\vec{AB} = \vec{OB} - \vec{OA} = \begin{pmatrix} 4 \\ 3 \\ 4 \end{pmatrix} - \begin{pmatrix} 2 \\ 1 \\ 3 \end{pmatrix} = \begin{pmatrix} 2 \\ 2 \\ 1 \end{pmatrix}$$

$$\|\vec{AB}\| = \sqrt{4 + 4 + 1} = \underline{3}$$

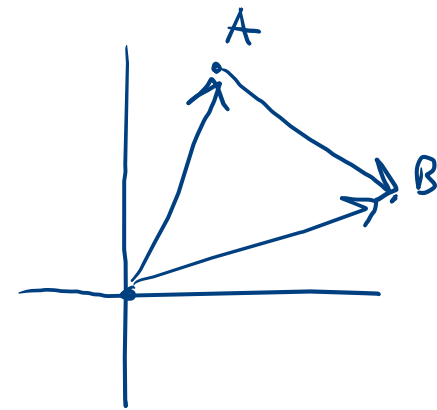
$$2) \quad BC = \sqrt{(4-2)^2 + (3-6)^2 + (4+9)^2}$$

$$= \sqrt{4 + 9 + 169} = \underline{\sqrt{182}}$$

$$3) \quad \vec{AC} = \vec{OC} - \vec{OA} = \begin{pmatrix} 2 \\ 6 \\ -9 \end{pmatrix} - \begin{pmatrix} 2 \\ 1 \\ 3 \end{pmatrix} = \begin{pmatrix} 0 \\ 5 \\ -12 \end{pmatrix}$$

$$\|\vec{AC}\| = \sqrt{0 + 25 + 144} = \underline{13}$$

$$4) \text{ Périmètre : } 3 + \sqrt{182} + 13 = 16 + \sqrt{182}$$



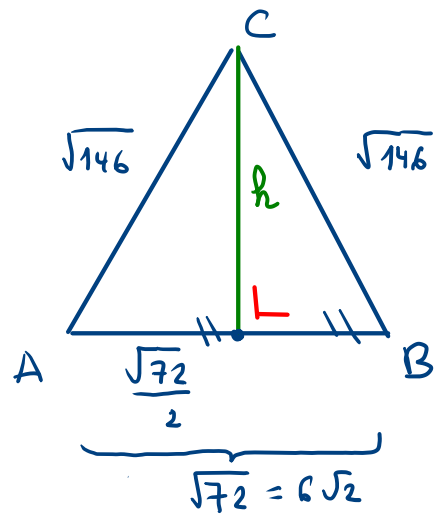
1.4.3 Etablir que le triangle ABC est isocèle, puis calculer son aire si $A(6;4)$, $B(12;-2)$ et $C(17;9)$.

• $\vec{AB} = \begin{pmatrix} 12 \\ -2 \end{pmatrix} - \begin{pmatrix} 6 \\ 4 \end{pmatrix} = \begin{pmatrix} 6 \\ -6 \end{pmatrix} \Rightarrow \|\vec{AB}\| = \sqrt{36+36} = \sqrt{72} = \sqrt{36} \cdot \sqrt{2} = \underline{6\sqrt{2}}$

• $\vec{BC} = \begin{pmatrix} 17 \\ 9 \end{pmatrix} - \begin{pmatrix} 12 \\ -2 \end{pmatrix} = \begin{pmatrix} 5 \\ 11 \end{pmatrix} \Rightarrow \|\vec{BC}\| = \sqrt{25+121} = \sqrt{146}$

• $\vec{CA} = \begin{pmatrix} 6 \\ 4 \end{pmatrix} - \begin{pmatrix} 17 \\ 9 \end{pmatrix} = \begin{pmatrix} -11 \\ -5 \end{pmatrix} \Rightarrow \|\vec{CA}\| = \sqrt{121+25} = \sqrt{146}$

} $AC = BC \Rightarrow$ isocèle en C



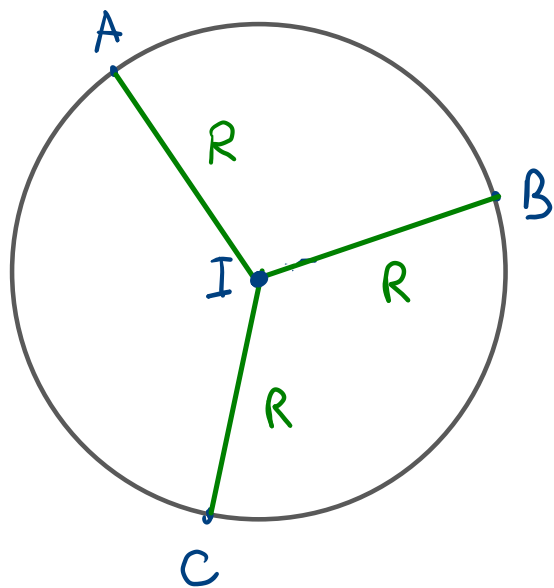
$$h^2 = (\sqrt{146})^2 - \left(\frac{\sqrt{72}}{2}\right)^2 = 146 - \frac{72}{4} = 146 - 18 = 128$$

$$h = \sqrt{128} = \underline{8\sqrt{2}}$$

Aire $\triangle ABC$: $\frac{1}{2} \sqrt{72} \cdot \sqrt{128} = \frac{1}{2} \sqrt{72 \cdot 128} = \frac{1}{2} \cdot 96 = 48 \text{ [U}^2\text{]}$

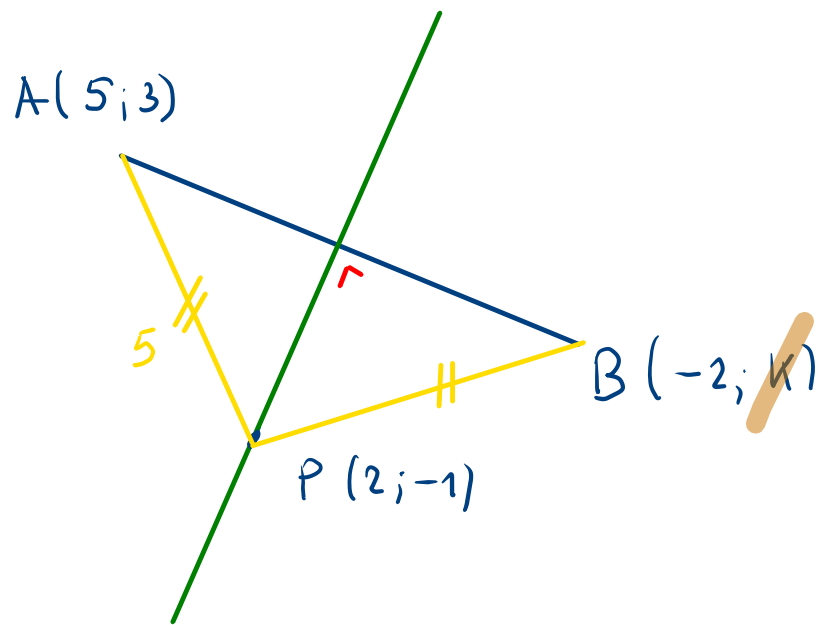
$$\frac{1}{2} 6\sqrt{2} \cdot 8\sqrt{2} = \frac{1}{2} \cdot 6 \cdot 8 \cdot 2 = 48$$

1.4.4 Soit $A(7; 1)$, $B(5; 5)$, $C(5; -3)$ et $I(2; 1)$. Prouver que les points A , B et C sont situés sur le même cercle centré en I .



Il faut montrer que $\|\vec{IA}\| = \|\vec{IB}\| = \|\vec{IC}\|$ qui est égal au rayon du cercle.

1.4.5 Déterminer k pour que $P(2; -1)$ soit situé sur la médiatrice du segment AB , si $A(5; 3)$ et $B(-2; k)$.



Condition : $\|\vec{PA}\| = \|\vec{PB}\|$

- $\vec{PA} = \vec{OA} - \vec{OP} = \begin{pmatrix} 5 \\ 3 \end{pmatrix} - \begin{pmatrix} 2 \\ -1 \end{pmatrix} = \begin{pmatrix} 3 \\ 4 \end{pmatrix}$

$$\|\vec{PA}\| = \sqrt{9+16} = \sqrt{25} = 5$$

- $\vec{PB} = \vec{OB} - \vec{OP} = \begin{pmatrix} -2 \\ k \end{pmatrix} - \begin{pmatrix} 2 \\ -1 \end{pmatrix} = \begin{pmatrix} -4 \\ k+1 \end{pmatrix}$

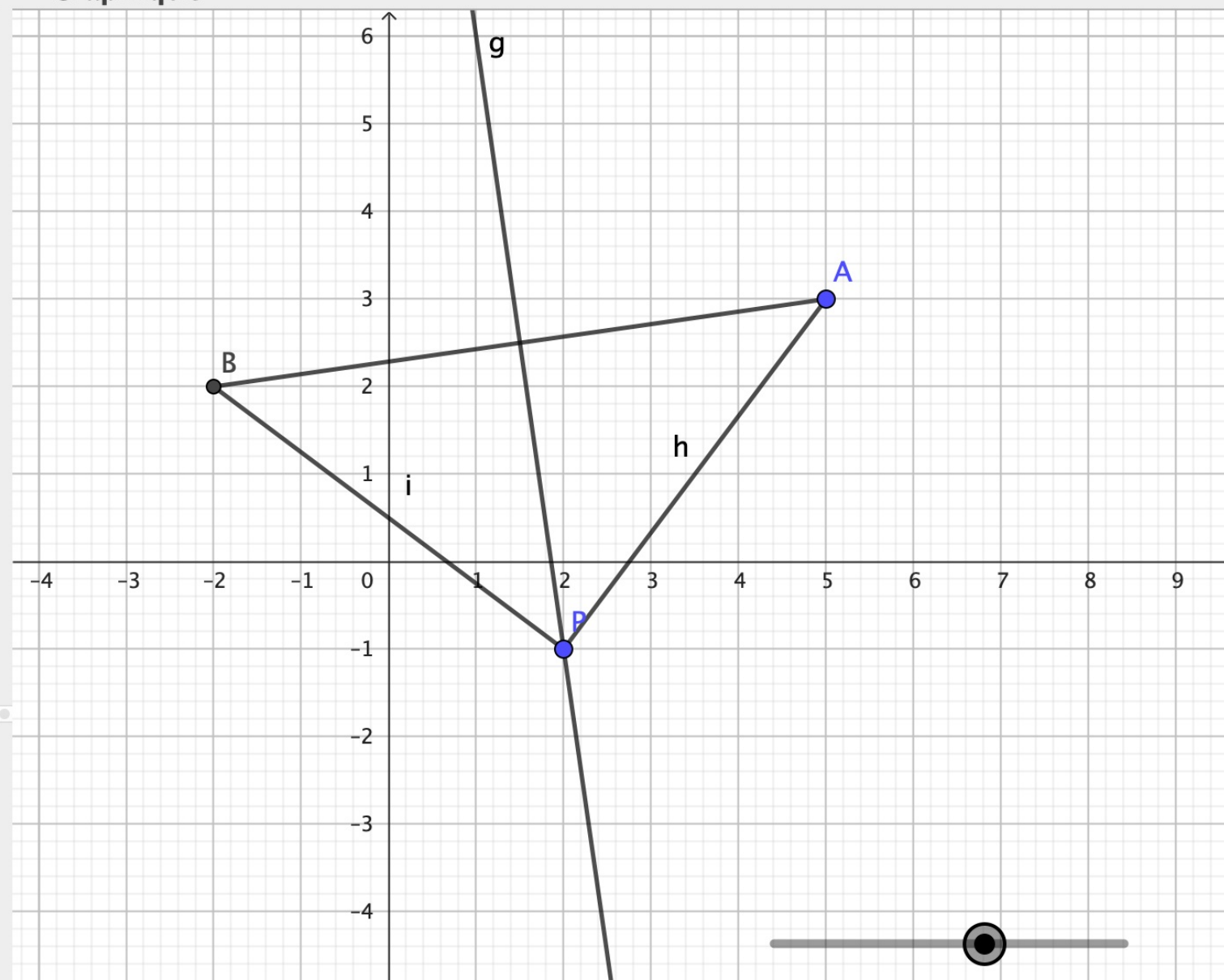
$$\|\vec{PB}\| = \sqrt{4^2 + (k+1)^2} = \sqrt{16 + k^2 + 2k + 1} = \sqrt{k^2 + 2k + 17}$$

$$\|\vec{PA}\| = \|\vec{PB}\| \Rightarrow \begin{array}{l} \sqrt{k^2 + 2k + 17} = 5 \\ k^2 + 2k + 17 = 25 \\ k^2 + 2k - 8 = 0 \\ (k+4)(k-2) = 0 \end{array} \quad \left. \begin{array}{l} ()^2 \\ -25 \end{array} \right\}$$

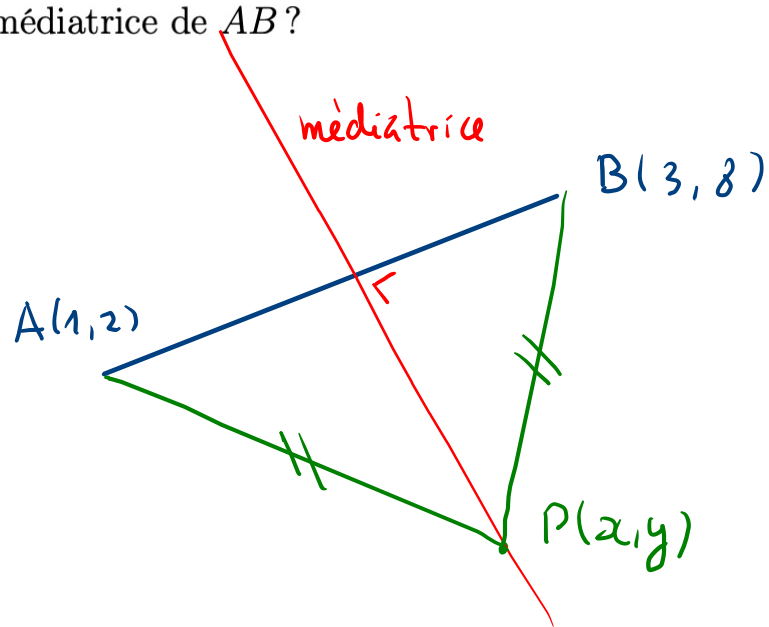
On trouve deux solutions : $k = -4$ et $k = 2$

Algèbre Graphique

- $k = 2$
- $P = (2, -1)$
- $A = (5, 3)$
- $B = (-2, 2)$
- $f = 7.07$
- $g: -7x - y = -13$
- $h = 5$
- $i = 5$



1.4.6 Soit $A(1;2)$, $B(3;8)$ et $P(x;y)$. A quelle condition sur x et y le point P est-il situé sur la médiatrice de AB ?



Condition : $\|\vec{PA}\| = \|\vec{PB}\|$

$$\vec{AP} = \begin{pmatrix} x \\ y \end{pmatrix} - \begin{pmatrix} 1 \\ 2 \end{pmatrix} = \begin{pmatrix} x-1 \\ y-2 \end{pmatrix}$$

$$\|\vec{AP}\| = \sqrt{(x-1)^2 + (y-2)^2}$$

$$\vec{BP} = \begin{pmatrix} x \\ y \end{pmatrix} - \begin{pmatrix} 3 \\ 8 \end{pmatrix} = \begin{pmatrix} x-3 \\ y-8 \end{pmatrix}$$

$$\|\vec{BP}\| = \sqrt{(x-3)^2 + (y-8)^2}$$

On doit avoir $(x-1)^2 + (y-2)^2 = (x-3)^2 + (y-8)^2$

On développe : $\underline{x^2 - 2x + 1} + \underline{y^2 - 4y + 4} = \underline{x^2 - 6x + 9} + \underline{y^2 - 16y + 64}$

$$4x + 12y - 68 = 0$$

condition sur (x,y) : $x + 3y - 17 = 0$

est l'équation de la médiatrice

1.4.7 Déterminer le centre du cercle passant par les points $K(-3;6)$, $L(9;-10)$ et $M(-5;4)$.

But : déterminer le centre $C(a; b)$ du cercle passant par K , L et M .

$$\text{Condition : } \|\vec{KC}\| = \|\vec{LC}\| = \|\vec{MC}\|$$